



Universidades Públicas  
de Andalucía

UNIVERSIDADES DE ANDALUCÍA  
PRUEBA DE ACCESO A LA UNIVERSIDAD

GEOGRAFÍA

Instrucciones:

- Duración: 1 hora y 30 minutos
- La presente prueba consta de dos opciones (A y B), de las cuales deberá desarrollar solamente una
- En todos los casos se considerarán elementos de ponderación de la nota final la calidad de la redacción y la claridad gramatical y ortográfica. La calificación máxima va expresada bajo cada pregunta

OPCIÓN A

1. Exprese de modo conciso el significado geográfico de los siguientes términos:

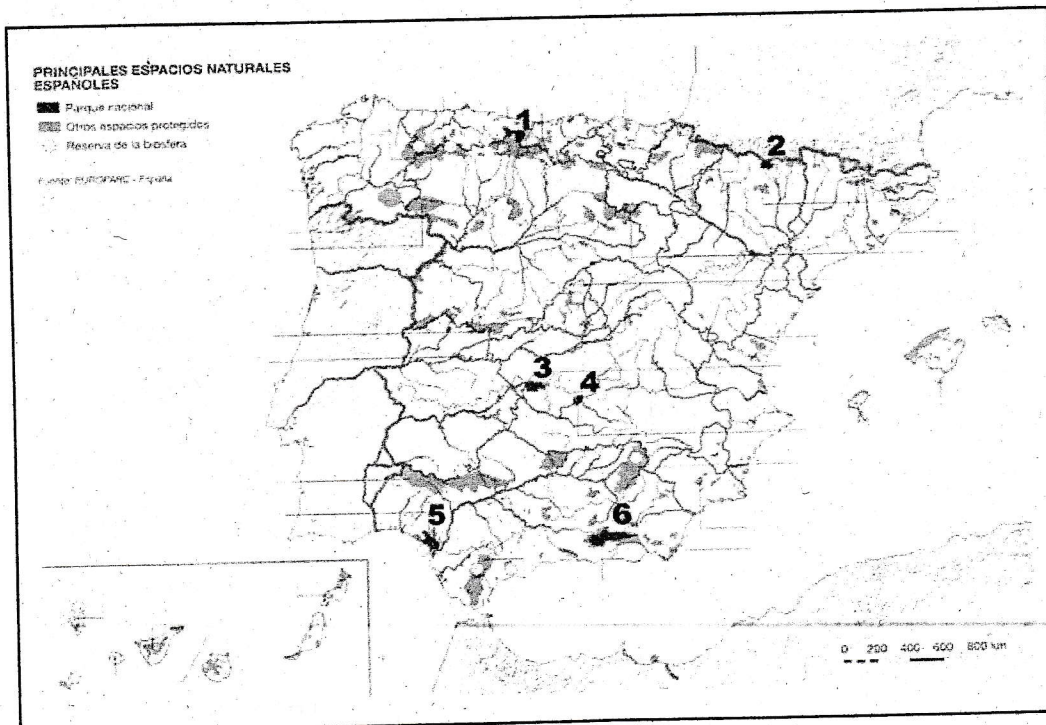
- Trasvase fluvial
- Presión atmosférica
- Lago glaciar
- Fuentes de energía
- Tasa bruta de natalidad
- Política agraria comunitaria

(Valoración: hasta 3 puntos; máximo 0,5 puntos por término)

2. El mapa muestra el sistema de espacios protegidos en España:

- Identifique y dé nombre a los espacios protegidos con categoría de Parque Nacional, enumerados del 1 al 6. (Hasta 1 punto).
- Identifique, en el mismo orden, la provincia o provincias sobre las que se encuentran. (Hasta 1 punto).
- Explique la importancia de su conservación y su función desde distintos puntos de vista (Hasta 2 puntos).

(Valoración: Hasta 4 puntos)



3. Tipos de paisaje agrarios en España.

(Tema libre, para cuyo desarrollo se sugiere realizar un esquema previo)

(Valoración: Hasta 3 puntos)

## Instrucciones:

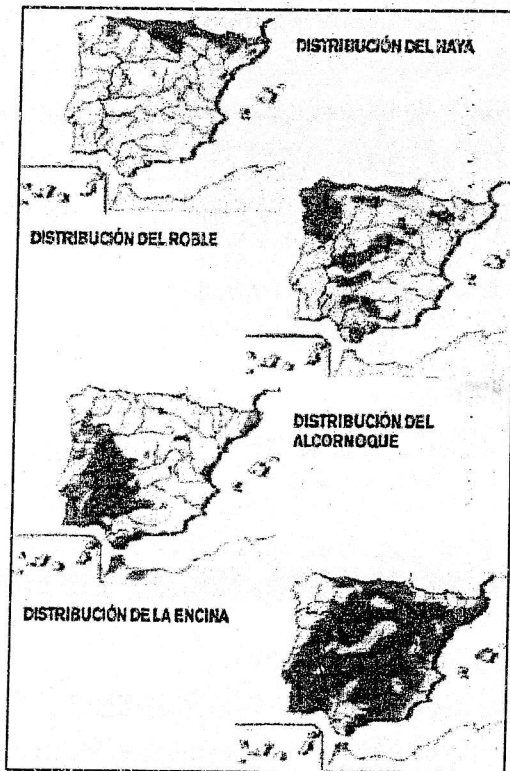
- a) Duración: 1 hora y 30 minutos  
 b) La presente prueba consta de dos opciones (A y B), de las cuales deberá desarrollar solamente una  
 c) En todos los casos se considerarán elementos de ponderación de la nota final la calidad de la redacción y la claridad gramatical y ortográfica. La calificación máxima va expresada bajo cada pregunta

## OPCIÓN A

## 1. Expresar de modo conciso el significado geográfico de los siguientes términos:

- Precipitaciones
- Cabecera de un río
- Oriental
- Infraestructura turística
- Industria siderúrgica
- Plano urbano

(Valoración: hasta 3 puntos; máximo 0,5 puntos por término)



2. Los mapas representan la distribución de cuatro especies arbóreas en la Península Ibérica. Obsérvelos y responda a las siguientes preguntas:

- a) Diga el nombre de las provincias donde es importante la presencia del haya. (Hasta 1 punto).  
 b) Qué relación existe entre la distribución de cada una de estas cuatro especies y los caracteres naturales de la Península. (Hasta 2 puntos).  
 c) Explique qué actividades económicas están relacionadas con el alcornoque y cuáles con la encina. Razónelo brevemente. (Hasta 1 punto).

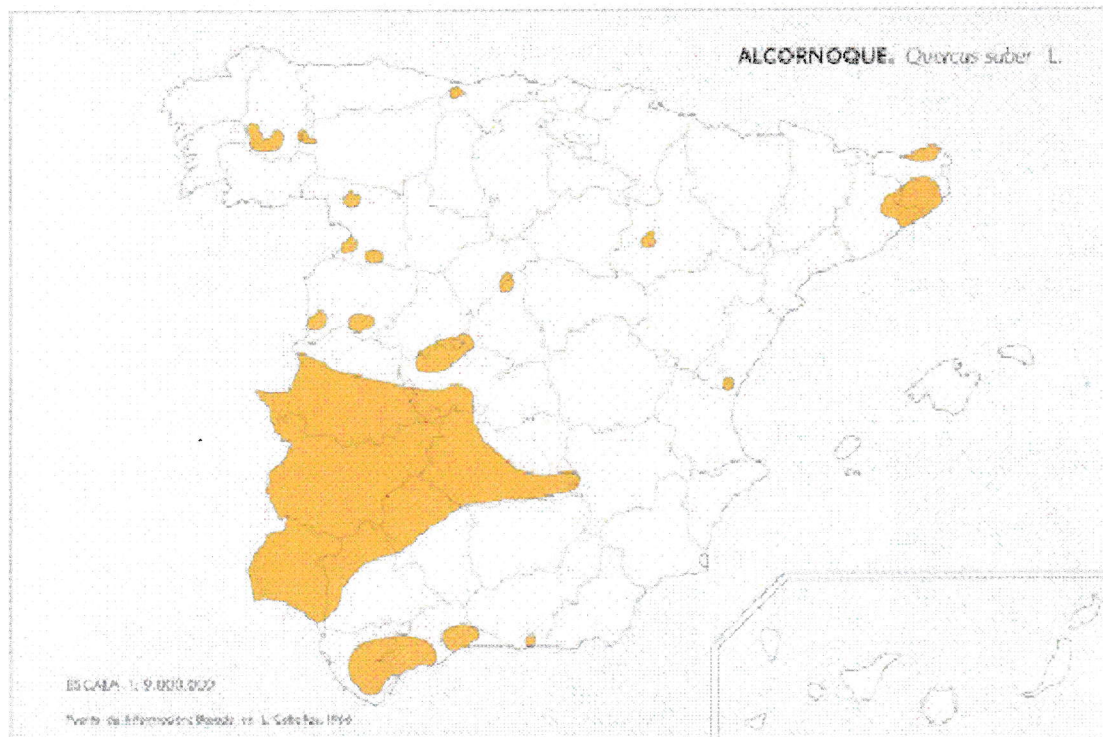
## 3. El transporte en España y su papel en el territorio.

(Tema libre, para cuyo desarrollo se sugiere realizar un esquema previo)

(Valoración: Hasta 3 puntos)

## OPCIÓN A

2. El mapa representa la distribución del alcornoque en la Península Ibérica. Analícelo y responda a las siguientes preguntas:  
(Valoración: hasta 3 puntos)



a) Diga el nombre de las provincias afectadas por la mancha más grande del mapa.

Las provincias afectadas por la mancha más grande son las siguientes:  
Cáceres, Badajoz, Huelva, Sevilla, Córdoba, Ciudad Real y Toledo.

b) Qué relación existe entre esta distribución y la litología peninsular.

El alcornoque es, junto con la encina, la especie arbórea más representativa del bosque esclerófilo mediterráneo. Ambas especies son muy similares pero se diferencian en la necesidad de agua y el tipo de suelo. El alcornoque necesita más humedad que la encina y prefiere los suelos silíceos. Los materiales silíceos, formados por materiales antiguos precámbricos y primarios que se corresponden con rocas como el granito y las rocas metamórficas, predominan en la zona occidental de la península y con los plegamientos terciarios como la Cordillera Costero Catalana y parte del Sistema Penibético.

*En la zona hay que subrayar el suelo.*

a) Explique qué actividades económicas están relacionadas con esta especie vegetal.

El alcornoque da lugar a dos importantes actividades económicas: la explotación forestal y la ganadera. La formación de dehesas permite el aprovechamiento pecuario con la utilización de la bellota para la alimentación del ganado porcino que suele ser extensivo o mixto. Al mismo